

I. Définitions

Propriété 1

Il existe une fonction unique définie sur $]0; +\infty[$, qui s'annule en 1 et dont la dérivée est la fonction inverse.

Définition

Cette fonction est appelée **fonction logarithme népérien**.

On a donc : $(\ln)'(x) = \frac{1}{x}$ $\ln 1 = 0$.

Propriété 2

Le nombre 1 a un antécédent unique par la fonction ln.

Définition

Le nombre e est cet antécédent : $\ln e = 1$.

On a $e \simeq 2,718$.

Propriété 3

La fonction ln a une fonction réciproque, définie sur \mathbb{R} et à valeurs dans $]0; +\infty[$.

Définition

Cette fonction est appelée **fonction exponentielle** de base e et notée exp.

Notation : on remplace souvent $\exp(x)$ par e^x .

Conséquences de la réciprocité de exp et de ln :

$$\forall x \in \mathbb{R}, \ln(e^x) = x \qquad \forall x \in]0; +\infty[, e^{\ln(x)} = x$$

$$\ln x = y \iff x = e^y \qquad e^x = y \text{ et } y > 0 \iff x = \ln y$$

Autres conséquences de ce qui précède :

$$e^x > 0 \text{ pour tout réel } x \qquad e^0 = 1 \text{ et } e^1 = e$$

Exercice I (quelques équations)

Résoudre les équations :

- a) $\ln x = 5$ b) $e^x - 4 = 3$ c) $4e^{2x-1} = 1$ d) $2\ln(x+5) - 3 = 0$
 e) $e^{3x-4} + 4 = 3$ f) $e^{x+2} = e$ g) $\ln^2 x = 1$ h) $1 - 3e^{2-x} = 0$

II. Propriétés algébriques

1) Pour la fonction ln

Propriétés 4

Soient a, b deux nombres strictement positifs et n un entier.

On admet que :

$$\ln(a.b) = \ln a + \ln b \qquad \ln(a^n) = n \ln a \qquad \ln \frac{1}{a} = -\ln a \qquad \ln \left(\frac{a}{b} \right) = \ln a - \ln b$$

EXEMPLES 1 :

- $\ln 12 - \ln 2 = \ln(12/2) = \ln 6$.
- $5 \ln 2 - \ln 8 = 5 \ln 2 - \ln(2^3) = 5 \ln 2 - 3 \ln 2 = 2 \ln 2$.
- $\ln(3e^2) = \ln(3) + \ln(e^2) = \ln 3 + 2 \ln e = \ln 3 + 2$.

Exercice II

Soit f la fonction définie sur $]0; +\infty[$ par $f(x) = x(1 + \ln x)$.

Calculez les valeurs exactes de $f(e)$, $f(e^2)$ et $f\left(\frac{1}{e}\right)$.

2) Pour la fonction exp

Les propriétés de exp sont les mêmes que pour les puissances (par exemple les puissances de 10).

Pour tous les nombres a et b, on a :

$$e^{a+b} = e^a \cdot e^b \qquad e^{a-b} = \frac{e^a}{e^b} \qquad e^{ab} = (e^a)^b$$

Exercice III

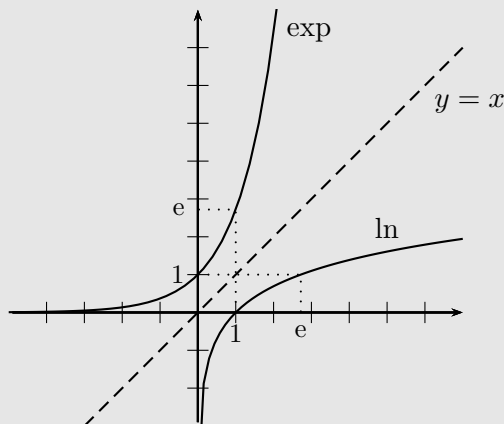
Simplifiez : $A = (e^2)^3$ $B = e^{2^3}$ $C = e \times e^5$ $D = (e^{-3} \times e^5)^2$
 $E = e^{2-\ln 2}$ $F = e^{\ln 4} + e^{-\ln 4}$

III. Étude des fonctions ln et exp

1) Courbes des fonctions ln et exp

Remarques :

- les courbes des fonctions exponentielle et logarithme népérien sont symétriques par-rapport à la droite d'équation $y = x$;
- la connaissance de ces courbes permet de retrouver les variations et les limites de ces deux fonctions (voir 2) et 3)).



2) Variations et (in)équations

Propriété 5

Les fonctions ln et exp sont strictement croissantes sur leur ensemble de définition.

Conséquences :

$$\ln a = \ln b \iff a = b \text{ et } a, b \text{ positifs}$$

$$\ln a < \ln b \iff a < b \text{ et } a, b \text{ positifs}$$

$$e^a = e^b \iff a = b$$

$$e^a < e^b \iff a < b$$

$$e^a > b \text{ et } b > 0 \iff a > \ln b$$

$$\ln a > b \iff a > e^b$$

EXEMPLES 2 :

- $\ln(x - 2) = \ln 5 \iff x - 2 = 5 \iff x = 7$.
- $\ln(x - 5) = \ln(2x - 8) \iff x = 3$ mais 3 n'est pas solution car $3 - 5 = -2 < 0$: il n'y a pas de solution.
- $\ln(2x + 1) > 3 \iff 2x + 1 > e^3 \iff x > \frac{e^3 - 1}{2}$.
- $e^{x-2} \leq 2 \iff x - 2 \leq \ln 2 \iff x \leq 2 + \ln 2$.

Remarques :

L'équation $e^x = -2$ n'a pas de solution car $e^x > 0$ pour tout réel x . Par contre, l'inéquation $e^x > -2$ est vérifiée par tout réel x pour la même raison (mais $e^x < -2$ n'a pas de solution).

Exercice IV ((in)équations)

Attention : vérifiez que les solutions trouvées sont permises (pas de nombre négatif dans un ln!). Résoudre les équations suivantes :

1°) $\ln(3x - 2) = \ln(x + 3)$	2°) $-7 \ln x > 2$
3°) $\ln(2x + 1) = \ln(x - 3)$	4°) $3 \ln x - 4 > 0$
5°) $e^{2x+3} = e^{x-5}$	6°) $2e^x + 3 > 8$
7°) $-3e^{-x+2} + 1 \geq 0$	8°) $e - e^{2x} > 0$

3) Limites

On retiendra les limites suivantes en se souvenant des courbes des deux fonctions :

Propriétés 6

$$\lim_{\substack{x \rightarrow 0 \\ x > 0}} \ln x = -\infty$$

et

$$\lim_{x \rightarrow +\infty} \ln x = +\infty$$

$$\lim_{x \rightarrow -\infty} e^x = 0$$

et

$$\lim_{x \rightarrow +\infty} e^x = +\infty$$

Remarque : la première limite montre que la courbe de la fonction ln se rapproche de l'axe des ordonnées quand x tend vers 0. On dit alors que cette droite est une **asymptote** pour la courbe.

La courbe de la fonction ln admet une asymptote : l'axe des ordonnées.

La courbe de la fonction exp admet une asymptote : l'axe des abscisses.

Exercice V

Calculez les limites suivantes :

1°) $\lim_{x \rightarrow +\infty} \ln(3x - 5)$	2°) $\lim_{x \rightarrow -\infty} \ln(-2x + 3)$	3°) $\lim_{x \rightarrow +\infty} -x \ln x + 5$
4°) $\lim_{x \rightarrow 0} 3x - 5 \ln x$	5°) $\lim_{t \rightarrow 2} \ln(t - 2)^2$	6°) $\lim_{x \rightarrow 1^+} \ln(\ln x)$
7°) $\lim_{x \rightarrow -\infty} e^{5x-7}$	8°) $\lim_{x \rightarrow +\infty} x e^{2x-10}$	9°) $\lim_{x \rightarrow +\infty} 5e^{-x} + 2$

4) Calculs de dérivées

a) Dérivées de $\ln x$ et de e^x

Rappel : la dérivée de la fonction \ln est la fonction inverse : $(\ln x)' = \frac{1}{x}$.

Propriété 7

\exp est dérivable sur \mathbb{R} et sa dérivée est elle-même : $(e^x)' = e^x$.

EXEMPLE 3 : Si $f(x) = 5e^x - 3\ln x + 1$ alors $f'(x) = 5e^x - \frac{3}{x}$.

Exercice VI (étude de fonctions)

1°) a) Etudiez les limites et les variations de la fonction f définie par

$$f(x) = 3\ln x + \frac{2}{x} - 5 \text{ sur } \left] \frac{1}{5}; +\infty \right[.$$

b) En déduire :

- un extremum éventuel pour f ;
- le nombre de solutions de $f(x) = -1$ puis de $f(x) = -4$.

2°) Mêmes questions avec $g(x) = -2x \ln x + 5x - 1$ sur $]1; +\infty[$

5) Calculs de dérivées

a) Dérivées de $\ln u$ et de e^u

Propriété 8

Soit u une fonction dérivable sur un intervalle I et à valeurs positives. Alors

la fonction $\ln u$ est dérivable sur I et

$$(\ln u)' = \frac{u'}{u}.$$

Propriété 9

Si u est dérivable sur un intervalle I alors e^u est dérivable sur I et

$$(e^u)' = u' \cdot e^u.$$

EXEMPLES 4 :

- Si $f(x) = \ln(x^2 + 3)$ alors $f'(x) = \frac{2x}{x^2 + 3}$.
- Si $f(x) = e^{2x-3}$ alors $f'(x) = 2e^{2x-3}$.
- Si $f(t) = e^{-t^2}$ alors $f'(t) = -2t e^{-t^2}$.

Exercice VII

Calculez les dérivées des fonctions définies, sur un certain intervalle, par les formules suivantes :

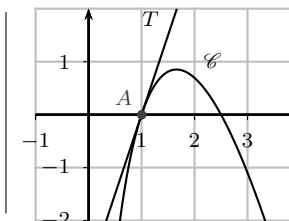
1°) $f(x) = \ln(2x + 3)$	2°) $g(x) = 3\ln x - \ln(3x)$	3°) $h(x) = x \ln x^2$
4°) $i(x) = e^{-x}$	5°) $j(t) = 2t - e^{2t}$	6°) $k(x) = 3x e^{-2x}$

Exercice VIII

La courbe \mathcal{C} représente une fonction f définie sur $]0; +\infty[$ par $f(x) = (ax + b) \ln(x)$.

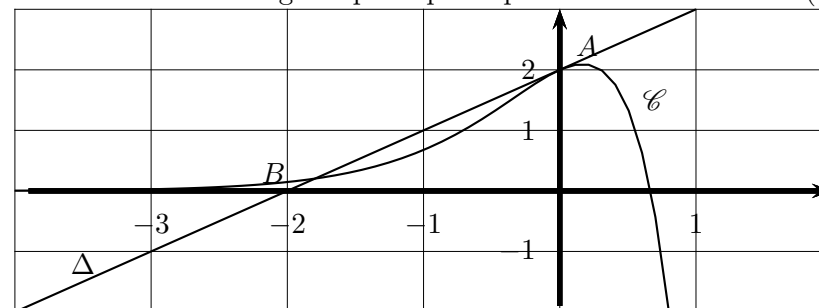
Cette courbe coupe l'axe des abscisses aux points d'abscisses 1 et 2,5. La tangente T au point d'abscisse 1 a pour équation réduite $y = 3x - 3$.

Déterminez a et b .



Exercice IX

1°) La courbe \mathcal{C} ci-dessous représente dans un repère orthonormal $(O; \vec{i}, \vec{j})$ une fonction f définie sur \mathbb{R} par $f(x) = (ax + b)e^{2x}$, où a et b sont des nombres réels. La droite Δ est la tangente à la courbe \mathcal{C} au point A d'abscisse 0. Cette tangente passe par le point B de coordonnées $(-2, 0)$.



- a) Déterminer graphiquement $f(0)$.
- b) Déterminer, graphiquement ou par le calcul, $f'(0)$.
- c) Déterminer les valeurs des nombres réels a et b .

Dans la suite on admet que $f(x) = (-3x + 2)e^{2x}$.

- 2°) Déterminer la limite de f en $+\infty$.
- 3°) Donnez, par lecture graphique, l'équation d'une asymptote à la courbe \mathcal{C} . En admettant ce résultat, donnez une limite pour f .
- 4°) a) Démontrer que, pour tout x de \mathbb{R} : $f'(x) = (1 - 6x)e^{2x}$;
b) Résoudre $f'(x) \geq 0$; en déduire les variations de f sur \mathbb{R} .